

## Sprawdź, czy potrafisz | Usługi w Polsce

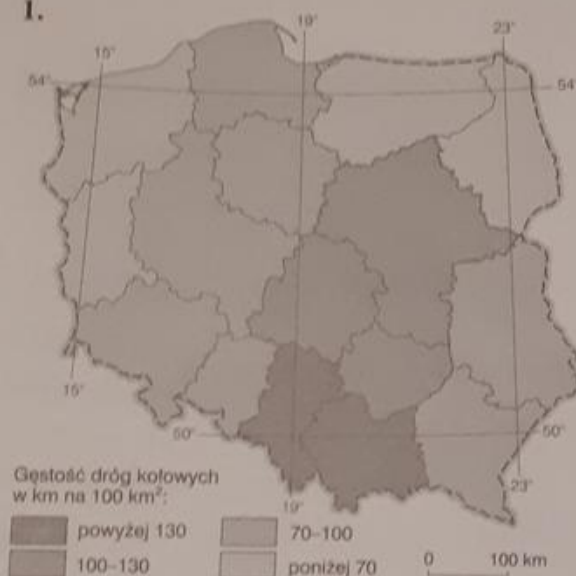
1 Dokończ zdanie. Wybierz odpowiedź A lub B oraz jej uzasadnienie 1. albo 2.

Największe znaczenie w przewozie ładunków i pasażerów w naszym kraju ma transport

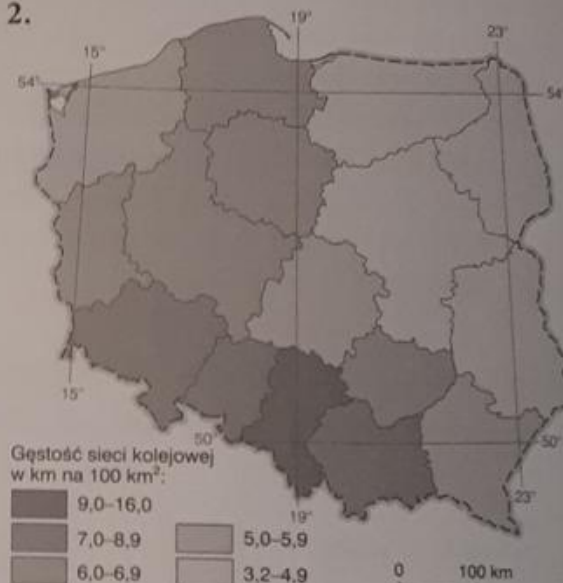
A.	samochodowy,	ponieważ	1.	umożliwia on między innymi przewóz ładunków bezpośrednio od producenta do odbiorcy.
B.	kolejowy,		2.	za jednym razem można przewieźć nim duże ilości towarów.

2 Oceń prawdziwość informacji. Wybierz P, jeśli informacja jest prawdziwa, lub F, jeśli jest fałszywa.

1.



2.



1.	Województwo łódzkie odznacza się największą w Polsce gęstością dróg kołowych i sieci kolejowej.	P	F
2.	Duża gęstość dróg kołowych występuje w województwach o znacznej koncentracji ludności i silnie uprzemysłowionych.	P	F

3 Wybierz zestaw, w którym podano oznaczenia zdań poprawnie opisujących cechy polskiego transportu.

- Kolej jest wykorzystywana jako środek transportu w największych miastach w Polsce.
- Gęstość dróg o twardej nawierzchni (w tym autostrad i dróg ekspresowych) jest w Polsce porównywalna z gęstością tych dróg w innych państwach Unii Europejskiej.
- Żegluga śródlądowa ma w Polsce niewielkie znaczenie między innymi ze względu na duże wahania poziomu wody w rzekach.
- Port lotniczy, który obsługuje w Polsce największą liczbę pasażerów, znajduje się w Krakowie.

A. 1 i 4

B. 2 i 3

C. 2 i 4

D. 1 i 3

- 4 Przyporządkuj opisy (A–F) do odpowiednich nazw rodzajów transportu. Uzupełnij tabelę.

Transport					
samochodowy	kolejowy	lotniczy	morski	śródlądowy	przesyłowy

- A. Umożliwia przewóz na przykład ropy naftowej z Arabii Saudyjskiej do Gdańska.  
 B. Umożliwia dotarcie w niecałe 10 godzin z Pekinu do Warszawy.  
 C. Rozprowadza się nim między innymi ropę naftową, prąd elektryczny i gaz ziemny.  
 D. Jego cechą są stosunkowo niskie koszty przewozu na krótkich dystansach.  
 E. Obejmuje na przykład przejazd tramwajem.  
 F. Umożliwia rejsy po Kanale Elbląskim.

- 5 Zaznacz zestaw, w którym podano nazwy państw będących głównymi partnerami handlowymi Polski.

A. Niemcy, Rosja, Białoruś.

B. Niemcy, Rosja, Chiny.

C. Francja, Portugalia, Włochy.

D. Rosja, Chiny, Szwajcaria.

- 6 Na mapie konturowej Polski oznaczono numerami 1–4 wybrane obiekty wpisane na „Listę światowego dziedzictwa UNESCO”.

Dokończ zdanie. Wybierz właściwą odpowiedź spośród podanych.

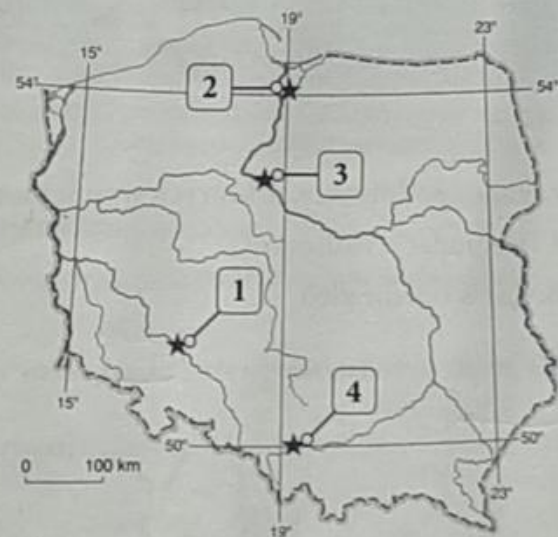
Jeden z najpotężniejszych ceglanych obiektów gotyckich w Europie został oznaczony na mapie

A. numerem 1 – jest to Hala Stulecia.

B. numerem 2 – jest to zamek krzyżacki.

C. numerem 3 – jest to Stare Miasto w jednym z miast nad Wisłą.

D. numerem 4 – jest to nazistowski obóz koncentracyjny.



★ obiekty wpisane na „Listę UNESCO”

- 7 Poniższy tekst dotyczy jednego z zabytkowych obiektów w Polsce.

Obiekt ten stanowi przykład doskonale zachowanego renesansowego układu urbanistycznego, łączącego włoskie i środkowoeuropejskie style architektoniczne. Same miasto, nazywane perłą polskiego renesansu, zostało założone w XVI wieku na szlaku handlowym prowadzącym z Europy Zachodniej nad Morze Czarne.

Dokończ zdanie. Wybierz właściwą odpowiedź spośród podanych.

Opisany obiekt znajduje się w

A. Zamościu.

B. Krakowie.

C. Warszawie.

D. Toruniu.